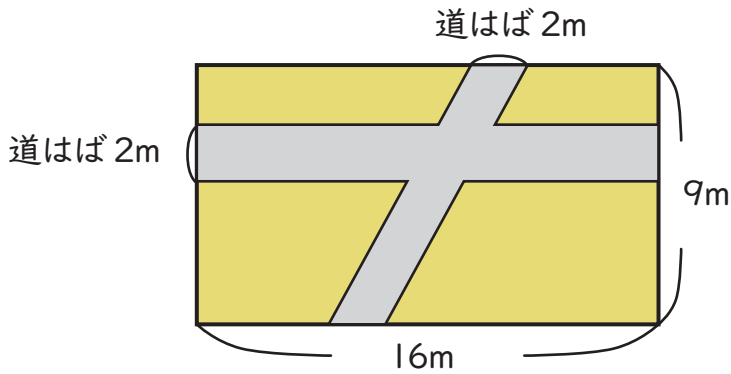


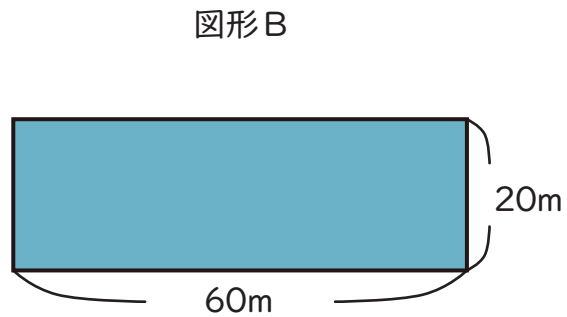
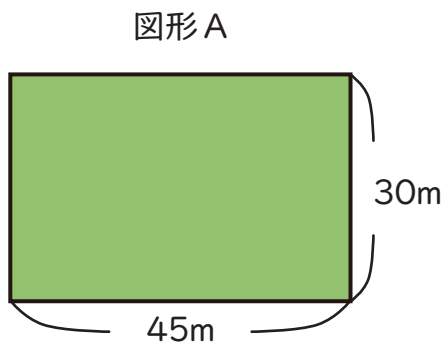
## 面積(広さ)

- ① 次のような花だんがあります。たろうくんはタネを植えるのに、めんせきを出そうとしています。道はばをのぞいためんせきは何aか(3年生)。



答え [                      ]

- ② 次の図形Aと図形Bの面積をくらべたとき、どちらの方が何a大きいか(4年生)。



答え 図形 [                      ]の方が [                      ] a大きい。

